



Ein Hase hat 4 Beine.
Wie viele Beine haben 5 Hasen?

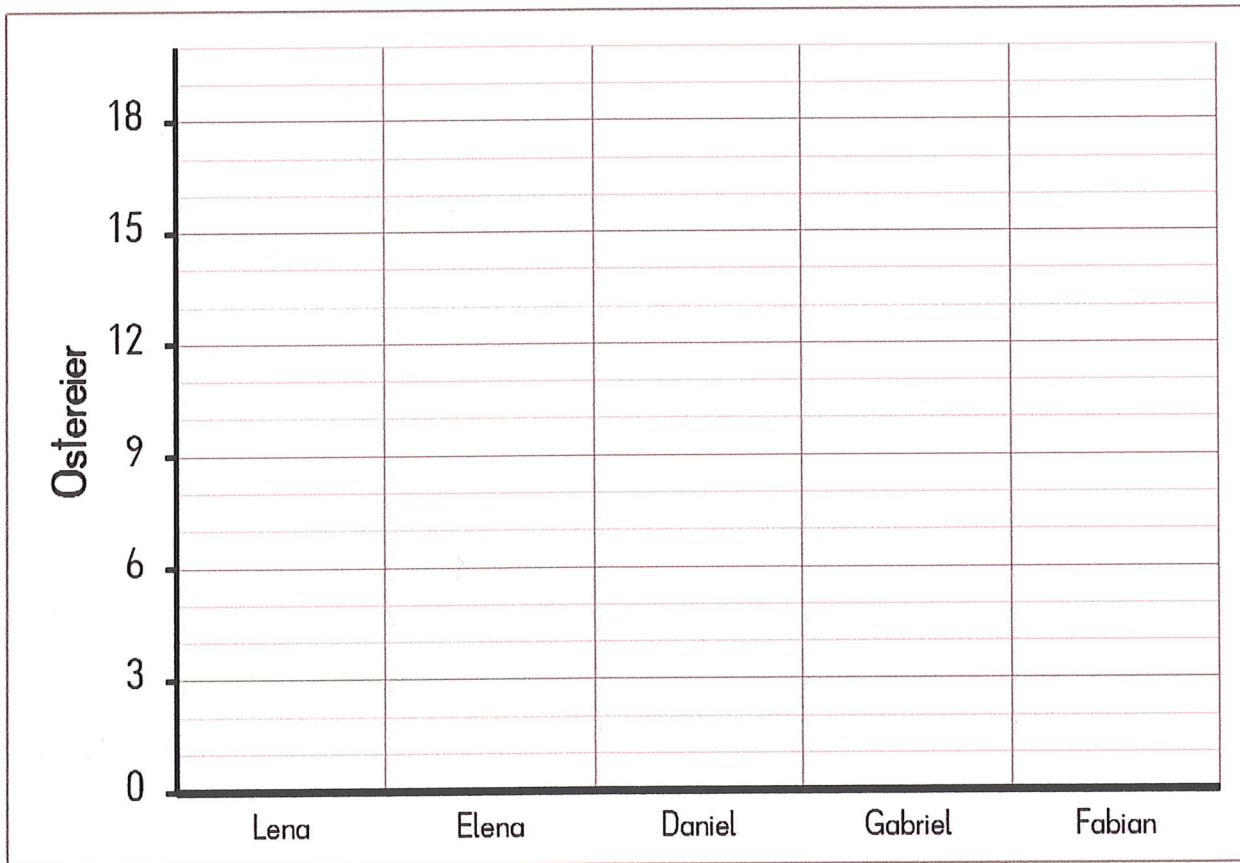
Rechnung:



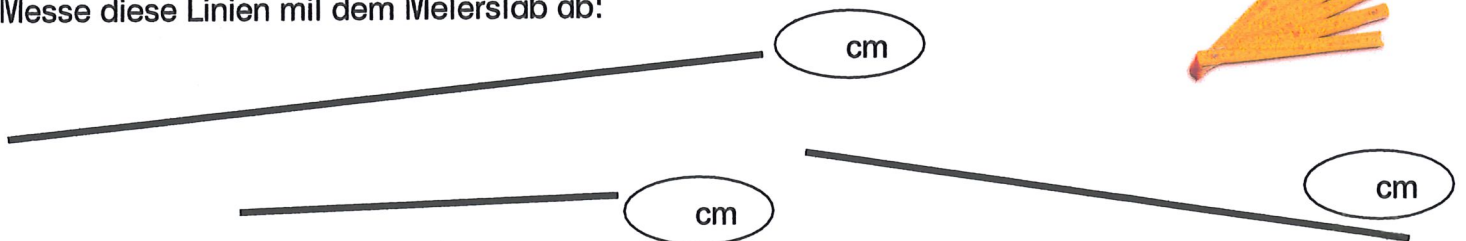
A:

Die Kinder suchen Ostereier. Hier siehst wie viele Eier die einzelnen Kinder finden. Übertrage diese Mengen in die leere Grafik!

Elena	7
Gabriel	13
Fabian	15
Daniel	9
Lena	18

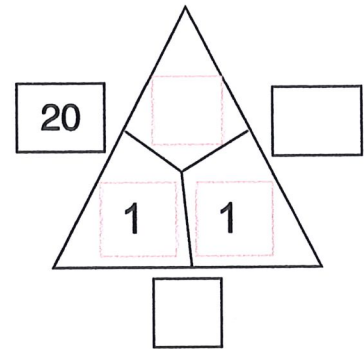
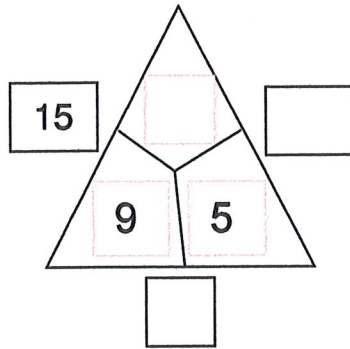
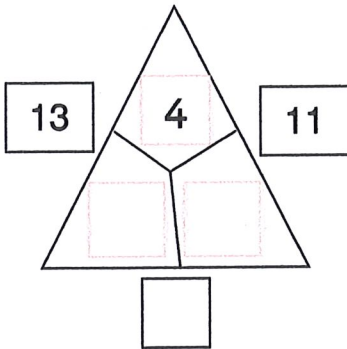


Messe diese Linien mit dem Meterstab ab!



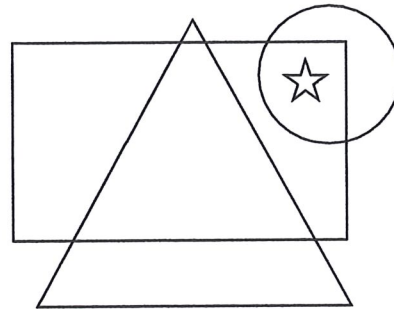


Löse diese Rechendreiecke!



Wo ist der Stern – Kreuze an!

Der Stern ist im Dreieck	<input type="checkbox"/>
Der Stern ist im Kreis und im Dreieck	<input type="checkbox"/>
Der Stern ist im Kreis und im Viereck	<input type="checkbox"/>



Kinder kaufen ein!

Celina	Hase	Sie gibt 10 €.	Sie bekommt ___ zurück.
Emma	Bomben	Sie gibt 10 €.	Sie bekommt ___ zurück.
Emilia	Stift	Er gibt 10 €.	Er bekommt ___ zurück.
Andre	Buch	Sie gibt 10 €.	Sie bekommt ___ zurück.