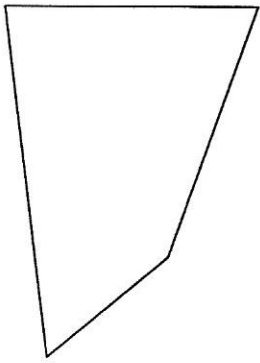


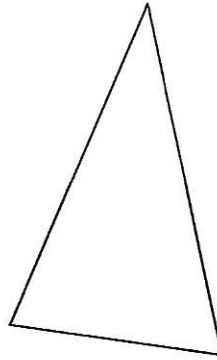
Name: _____

Wir berechnen den Umfang!

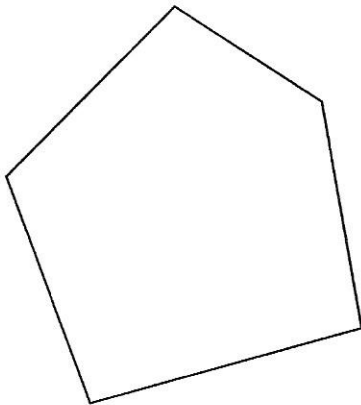
- 1) Ziehe den Umfang mit Farbe nach!
- 2) Miss die Längen!
- 3) Berechne den Umfang!
- 4) Ergänze die Antwort!



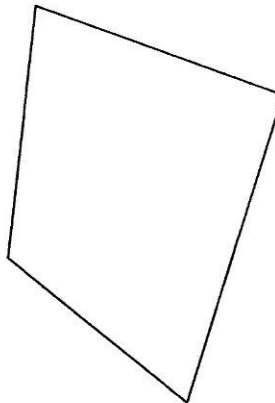
Der Umfang beträgt _____.



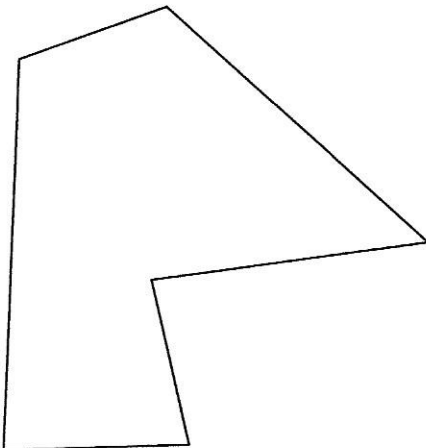
Der Umfang beträgt _____.



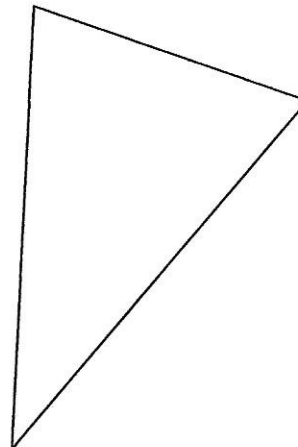
Der Umfang beträgt _____.



Der Umfang beträgt _____.



Der Umfang beträgt _____.



Der Umfang beträgt _____.