

Alles klar! Das kann ich schon!

1 $7\ 9\ 8 : 2\ 1 =$ $8\ 4\ 6 : 1\ 8 =$ $4\ 9\ 2\ 8 : 3\ 2 =$

2 a) Rechne und vergleiche.

$2820 \xrightarrow{:12}$ $2820 \xrightarrow{:3}$ $\xrightarrow{:4}$

b) Welche zwei einstelligen Teiler kommen für die zweite Art noch infrage?

$2820 \xrightarrow{\square}$ $\xrightarrow{\square}$

3 Richtig oder falsch? Kreuze an.

$2520 : 8 = 312$ $\begin{array}{r} 12 \\ 20 \\ 4R \end{array}$	R	F			
<input type="checkbox"/>	<input type="checkbox"/>				

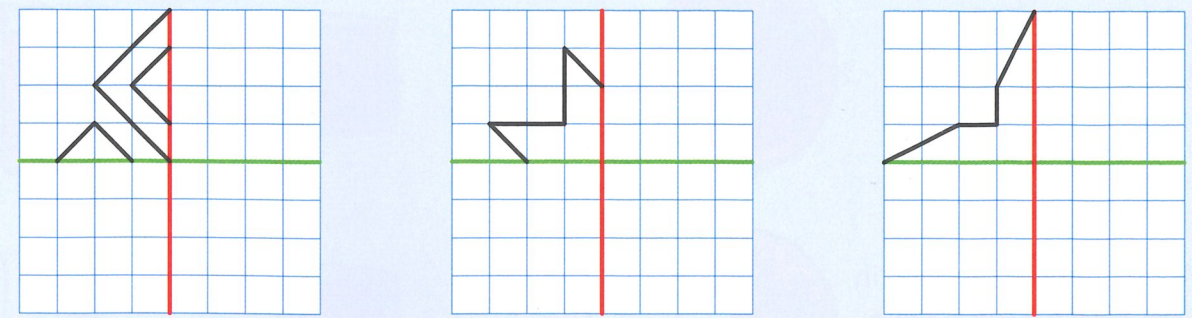
$4824 : 24 = 21$ $\begin{array}{r} 024 \\ 0R \end{array}$	R	F			
<input type="checkbox"/>	<input type="checkbox"/>				

4 Für das Maifest werden 25 Tische für jeweils 12 Personen aufgestellt. Für den Tischschmuck werden 275 Tulpen gekauft. Für die Gäste werden 5 Fahrradständer aufgestellt. In einen Ständer passen 15 Fahrräder. An 243 Personen wurde je eine Eintrittskarte zu 3,50 € verkauft. Lies die Angabe ganz genau durch. Überlege dir zu jedem Rechenausdruck eine passende Frage. Wenn das nicht möglich ist, vermerke das.

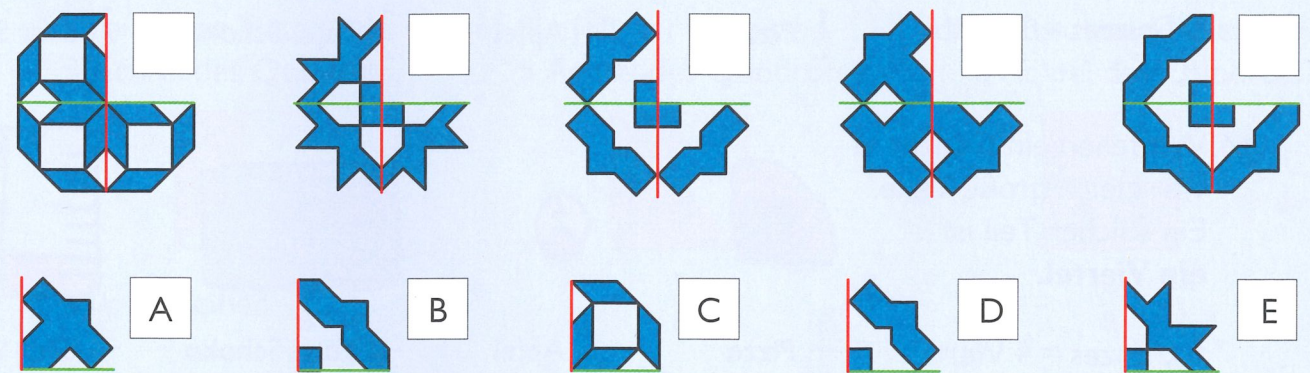
Rechenausdruck	Meine Frage
$275 : 25$	
$243 \cdot 5$	
$25 \cdot 12 - 243$	
$15 \cdot 5$	

Alles klar! Das kann ich schon!

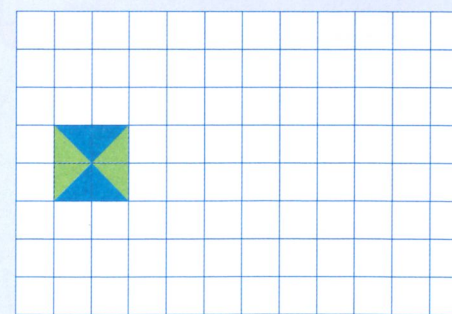
1 Spiegle jeweils die Figur an beiden Spiegelachsen.



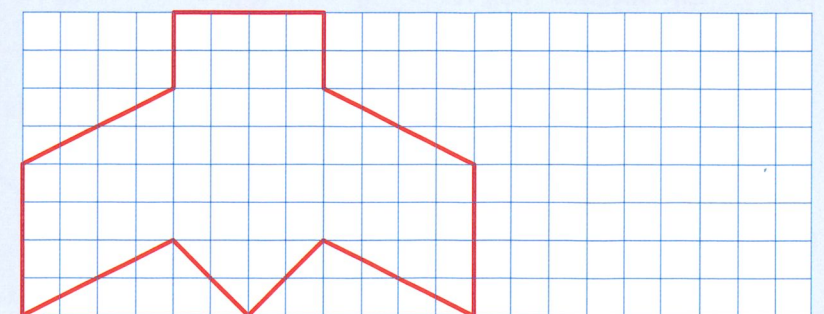
2 Welche Figur passt jeweils in das Muster? Ordne zu.




3 Zeichne die Figur mit dreifacher Seitenlänge.



4 Verkleinere diese Figur im Maßstab 1:2.



5 Wie groß sind die Tiere in Wirklichkeit?



	Schildkröte	Walhai	Koala	Gepard
Bild	3 cm			
Wirklichkeit				