









Es ist... 	1	Vor wie vielen Minuten war es 16:59 Uhr?	8	13 min	12	11 min
	2	In wie vielen Minuten ist es 17:26 Uhr?	7	21 min	9	22 min
	3	Dein Zug fährt um 17:31 Uhr ab. Wie lange musst du noch warten?	10	16 min	2	7 min

4 

Baue zuerst nach. Welcher Bauplan passt zu diesem Würfelgebäude?





2	3	2	1	2	3	2	1	2	3	2	1
1	1	2	1	1	2	1	1	1	1	1	2
0	1	1	0	0	1	1	0	0	1	1	0
0	1	0	0	0	1	0	0	0	1	0	0
12				11				10			

Wer hat wie viel Geld? Berechne in deinem Heft und löse die LÜK-Aufgaben.

								
5	Susi	II	III	II	III	I	I	
6	Erich	III	II	III	III	II	III	
7	Sandra	III	IIII	III	III	I	II	
8	Pia	I	III I	III	III	IIII	I	
	53 € 10 c	53 €	57,20 €	43,30 €	42 € 70 c	83 € 50 c	11,20 €	83,90 €
	1	9	6	10	2	12	7	4

Richtig oder falsch? Finde es heraus. Rechne die Aufgaben in deinem Rechenheft aus.	richtig	falsch
9 $7 \cdot 8 < 34 + 26 + 12$	8	9
10 $400 + 120 = 500 - 30 + 60$	4	1
11 $1000 - 540 - 100 > 500 - 150 - 50 - 20$	5	6

12 Bei welchem Quadrat wurde eine Linie von der rechten oberen Ecke zur linken unteren Ecke gezogen?

			
10	9	6	3



13 Welche Rechnung passt zu dieser Aufgabe?


Elias sammelt Fußballsticker. Er hat schon 9 Seiten voll. Auf jeder Seite befinden sich 8 Sticker.

$9 + 8 =$	$9 : 8 =$	$9 \cdot 8 =$	$9 - 8 =$
21	22	23	24


Stimmt das, was Hannah da behauptet? Überprüfe ihre Aussagen.	richtig	falsch
14 370 Cent sind gleich viel wert wie 3 € 70 c.	21	18
15 Jedes Viereck ist ein Quadrat.	15	19
16 Das Doppelte von 230 ist 460.	24	20

17 Wie viele €-Scheine brauchst du mindestens um 485 € zu bekommen?

mindestens 7 Scheine	13
mindestens 5 Scheine	14
mindestens 6 Scheine	15
mindestens 4 Scheine	16
mindestens 8 Scheine	17




18 Wo liegt die Zahl 728 ungefähr auf diesem Zahlenstrahl?



A	B	C	D	E
13	14	19	20	21

Überprüfe, ob die Aussage zu der Rechnung passt.	richtig	falsch
$67 + 6 - 12 = 62$		
19 Addiere 67 und 6 und multipliziere dann 12.	24	16
20 Gib zu 67 zuerst 6 dazu und nimm danach 12 weg.	17	18
21 Addiere 67 und 6 und subtrahiere 12.	13	14

Was gehört zusammen?

22 	18	1H 8Z
23 $50 + 240 + 20 - 130 =$	14	$1000 - 1 =$
24 neunhundertneunundneunzig	22	fünfhundertsiebenunddreiig

Lösung: 